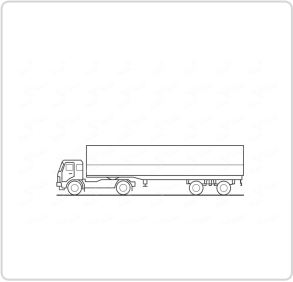
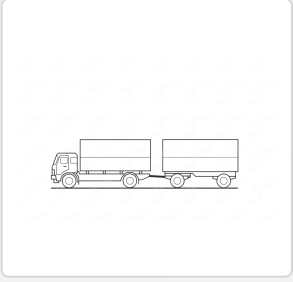
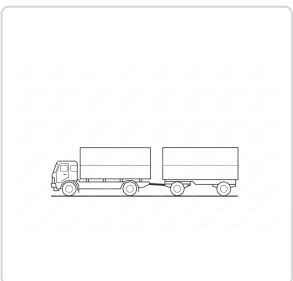
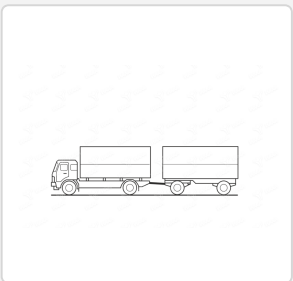


ИЗПЪЛНИТЕЛНА АГЕНЦИЯ "АВТОМОБИЛНА АДМИНИСТРАЦИЯ"

ВЪПРОСИ ЗА КАНДИДАТИ ЗА ПРИДОБИВАНЕ НА ПРАВОСПОСОБНОСТ ЗА УПРАВЛЕНИЕ НА МПС ОТ КАТЕГОРИЯ Е

Тема 1: Основни видове теглещи моторни превозни средства /влекачи/ тяхното наименование и предназначение.

Точки	Номер	Въпрос и отговори	
1	1/1	<p>"Състав от пътни превозни средства" са:</p> <ul style="list-style-type: none"><input checked="" type="checkbox"/> механично свързани ППС, които участват в движението като едно цяло<input checked="" type="checkbox"/> МПС теглещи полуремаркета<input checked="" type="checkbox"/> МПС с прикачено ремарке<input type="checkbox"/> МПС с допълнително монтирани съоръжения	
1	1/2	<p>Състав от пътни превозни средства са:</p> <ul style="list-style-type: none"><input checked="" type="checkbox"/> автомобил с ремарке<input checked="" type="checkbox"/> автомобил с полуремарке<input checked="" type="checkbox"/> автомобил, който тегли друг повреден автомобил<input type="checkbox"/> МПС с допълнително монтирани съоръжения	
1	2/1	<p>Съчлененото пътно превозно средство е:</p> <ul style="list-style-type: none"><input checked="" type="checkbox"/> МПС с полуремарке<input type="checkbox"/> МПС с прикачено ремарке<input type="checkbox"/> МПС, теглещо повреден автомобил	
1	3/1	<p>Съставът от ППС изобразен на фигурата е образуван от:</p> <ul style="list-style-type: none"><input checked="" type="checkbox"/> седлови влекач и полуремарке<input type="checkbox"/> товарен автомобил и колесар<input type="checkbox"/> автомобил и ремарке<input type="checkbox"/> седлови влекач и колесар	
1	3/2	<p>Съставът от ППС изобразен на фигурата е образуван от:</p> <ul style="list-style-type: none"><input checked="" type="checkbox"/> седлови влекач<input checked="" type="checkbox"/> полуремарке<input type="checkbox"/> товарен автомобил<input type="checkbox"/> ремарке	

1	3/3	<p>Съставът от ППС изобразен на фигурата е образуван от:</p> <p><input checked="" type="checkbox"/> седлови влекач</p> <p><input checked="" type="checkbox"/> полуремарке</p> <p><input type="checkbox"/> колесар</p> <p><input type="checkbox"/> автомобил</p>	
1	5/1	<p>Съставът от ППС изобразен на фигурата е образуван от:</p> <p><input type="checkbox"/> седлови влекач и полуремарке</p> <p><input type="checkbox"/> автомобил и колесар</p> <p><input checked="" type="checkbox"/> товарен автомобил и ремарке</p>	
1	5/2	<p>Съставът от ППС изобразен на фигурата е образуван от:</p> <p><input type="checkbox"/> седлови влекач</p> <p><input type="checkbox"/> полуремарке</p> <p><input checked="" type="checkbox"/> товарен автомобил</p> <p><input checked="" type="checkbox"/> ремарке</p>	
1	5/3	<p>Съставът от ППС изобразен на фигурата е образуван от:</p> <p><input type="checkbox"/> автомобил</p> <p><input type="checkbox"/> колесар</p> <p><input checked="" type="checkbox"/> товарен автомобил</p> <p><input checked="" type="checkbox"/> ремарке</p>	
1	6/1	<p>“Влекач за ремарке” е МПС предназначено за теглене на ремаркета, различни от полуремаркетата.</p> <p><input checked="" type="checkbox"/> правилно</p> <p><input type="checkbox"/> неправилно</p>	
1	6/2	<p>“Влекач за ремарке” е МПС предназначено за теглене на ремаркета и може да бъде оборудван с платформа.</p> <p><input checked="" type="checkbox"/> правилно</p> <p><input type="checkbox"/> неправилно</p>	

1	7/1	<p>“Седлови влекач” е МПС, предназначено за:</p> <p><input checked="" type="checkbox"/> теглене на полуремаркета</p> <p><input type="checkbox"/> теглене на всички видове ремаркета</p> <p><input type="checkbox"/> теглене само на едноосни ремаркета</p> <p><input type="checkbox"/> теглене на колесар</p>
1	7/2	<p>Седловият влекач:</p> <p><input checked="" type="checkbox"/> е МПС, предназначено да тегли полуремаркета</p> <p><input type="checkbox"/> е МПС, предназначено да тегли всякакви ремаркета</p> <p><input type="checkbox"/> не се използва за теглене</p>
1	8/1	<p>Предимство на съчлененото ППС пред състава от ППС, при равна товароносимост, е:</p> <p><input checked="" type="checkbox"/> по-малката дължина</p> <p><input type="checkbox"/> по-ниския разход на гориво</p> <p><input type="checkbox"/> по-късия спирачен път</p> <p><input type="checkbox"/> по-малкото тегло</p>
1	9/1	<p>Предимство на състава от товарен автомобил с ремарке пред съчленено ППС от седлови влекач с полуремарке е, че товарният автомобил може да се използва като самостоятелна транспортна единица.</p> <p><input checked="" type="checkbox"/> правилно</p> <p><input type="checkbox"/> неправилно</p>
1	10/1	<p>Според начина на задвижване на колелата на ремаркетото, съставите от ППС са:</p> <p><input checked="" type="checkbox"/> активни и пасивни</p> <p><input type="checkbox"/> специални и обикновени</p>
1	11/1	<p>При “активния състав от ППС” колелата на полуремаркетото са свързани с трансмисията на теглещото МПС и към тях се предава въртящ момент.</p> <p><input checked="" type="checkbox"/> правилно</p> <p><input type="checkbox"/> неправилно</p>
1	12/1	<p>Основно предимство на “активния състав от ППС” пред “пасивния състав от ППС” е:</p> <p><input checked="" type="checkbox"/> високата проходимост по път с нисък коефициент на сцепление на гумите с пътната настилка</p> <p><input type="checkbox"/> голямата маневреност</p> <p><input type="checkbox"/> малкия разход на гориво</p>

1	13/1	<p>За управление на автомобил от категория С с прикачено към него ремарке, водачът трябва да има правоспособност за категория СЕ, когато:</p> <p><input checked="" type="checkbox"/> допустимата максимална маса на ремаркетото е над 750 kg</p> <p><input type="checkbox"/> ремаркетото няма собствена спирачна уредба</p> <p><input type="checkbox"/> ремаркетото е двуосно</p>
1	14/1	<p>Състав от пътни превозни средства се обозначава с три еднакви светещи тела разположени хоризонтално:</p> <p><input checked="" type="checkbox"/> над предната част на кабината на теглещото МПС</p> <p><input type="checkbox"/> над задната част на ремаркетото</p> <p><input type="checkbox"/> над предната част на тегленото ППС</p>
1	15/1	<p>Състав от пътни превозни средства се обозначава с три еднакви светещи тела излъчващи:</p> <p><input checked="" type="checkbox"/> оранжева светлина</p> <p><input type="checkbox"/> бяла светлина</p> <p><input type="checkbox"/> червена светлина</p>